

breedte van een nagel




cm

breedte van een potlood



cm

hoogte van een blokje lego




cm

breedte van een knoop



cm

breedte van een paperclip



cm

hoogte van een dobbelsteen



cm

hoogte van een huis



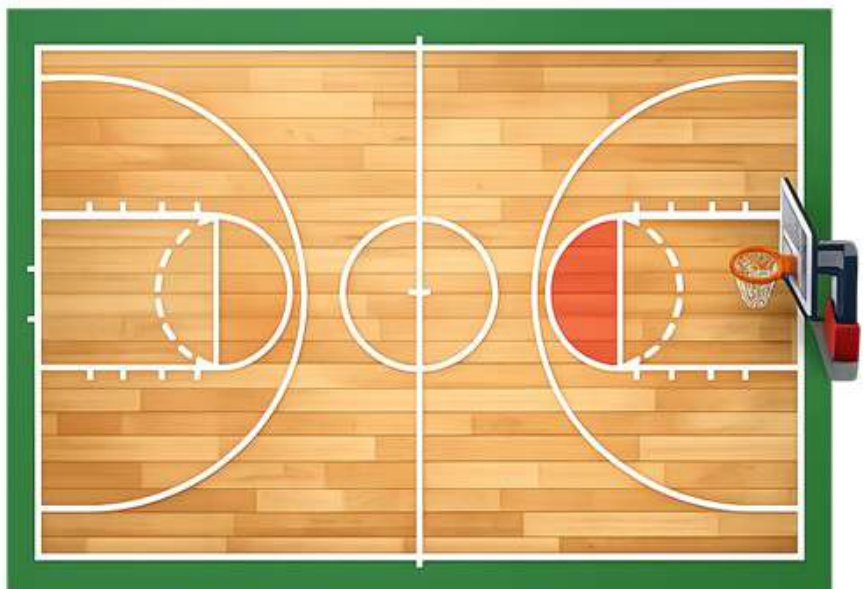
DAM

lengte van een brandweerwagen



D A m

breedte van een basketbalveld



D A m

lengte van een speelplaats



D A m

lengte van een klaslokaal



D A m

lengte van een stadsbus



D A m

hoogte van een mobieltje



Dm

breedte van een hand



Dm

lengte van een potlood



Dm

breedte van een broodtrommel



Dm

lengte van een tandenborstel



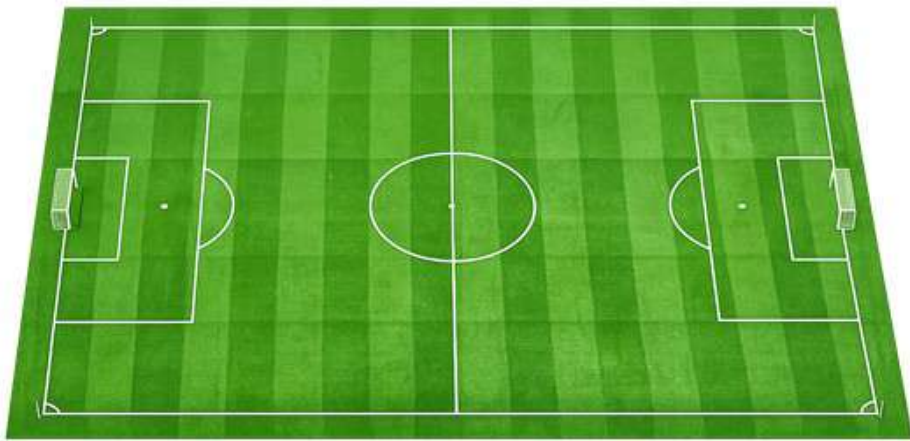
Dm

lengte van een afstandsbediening




Dm

breedte van een voetbalveld



Hm

breedte van een atletiekbaan



Hm

lengte van een straat



Hm

lengte van een lange trein



Hm

lengte van een achtbaan



Hm

lengte van een lange brug



Hm

omtrek van het park



Km

Een stukje fietsen




Km

van bushalte naar bushalte



Km

een deel van een kanaal



Km

een rondje om het meer



Km

van school naar de supermarkt



Km

lengte van een bezemsteel



m

hoogte van de tafel



m

een super grote stap



m

breedte van een deur



m

hoogte van een gitaar



m

breedte van een bed



m

hoogte van een muntje



mm

hoogte van een bankpas



mm

dikte van een vingernagel



mm

de punt van een potlood



mm

de dikte van visdraad



mm

een paar blaadjes papier



mm